


**М 2:1**

# **Игра по технологии «Юный чертёжник»**




*Учитель технологии -  
Журбагандов Далгат Магомедович*

# Выберите вопрос



# Вопрос 1



меню

Чего-то не хватает.

а) Если это осевая линия:



б) Если это линия сгиба:




в) Если это штриховая линия:



А вот здесь всё правильно.

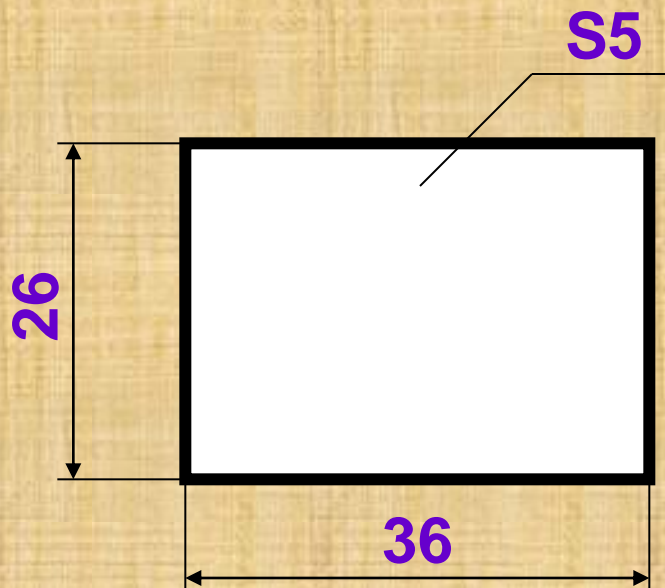
## Вопрос 2



меню

Прочитай чертёж.


высота 26 мм



толщина 5 мм

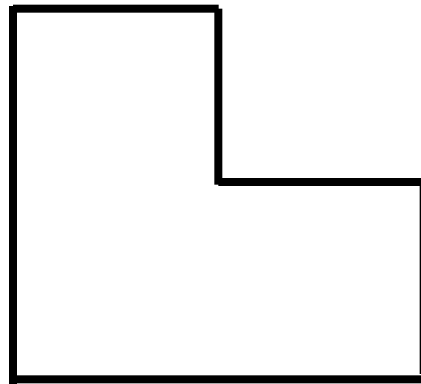
длина 36 мм

## Вопрос 3

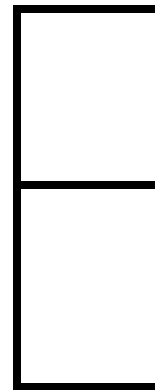


меню

Какие виды изображены  
на рисунке?




Главный вид



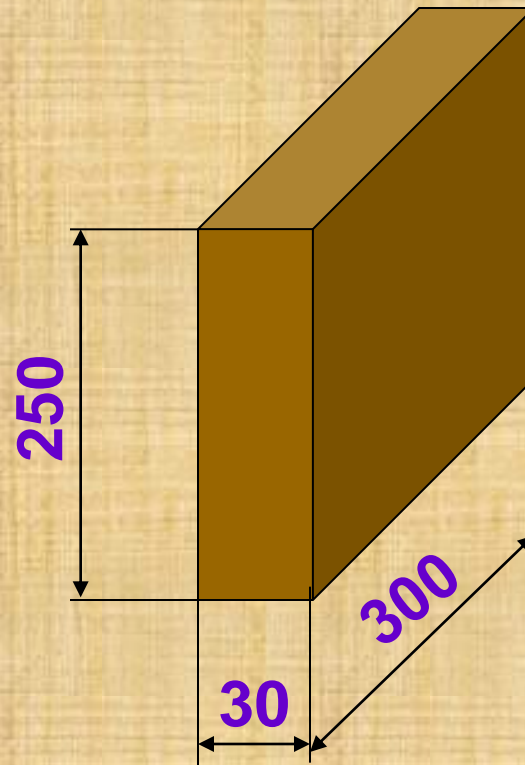
Вид слева

## Вопрос 4



меню

Какой масштаб необходимо выбрать, чтобы чертёж детали вместился на листе формата А4?




а) М 1:2

б) М 1:1

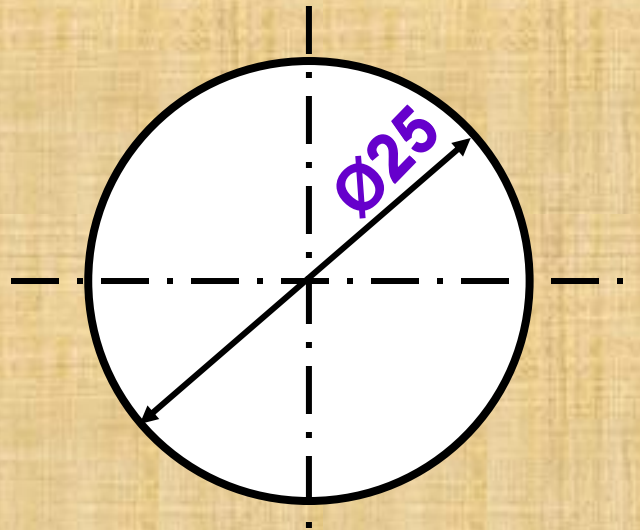
в) М 2:1

## Вопрос 5



меню


Чего не хватает на рисунке?



Прочитайте запись «Ø25».

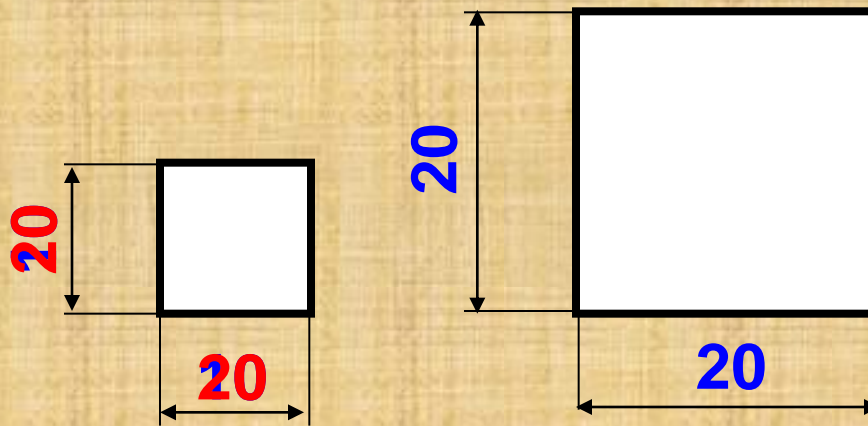
Диаметр отверстия 25 мм

## Вопрос 6



меню

Перед вами чертёж одной и той же детали в разных масштабах.  
Найдите ошибку.




М 1:2

М 1:1



## Вопрос 7




меню

А из оставшихся букв составьте слово – то,  
без чего нельзя построить чертёж.

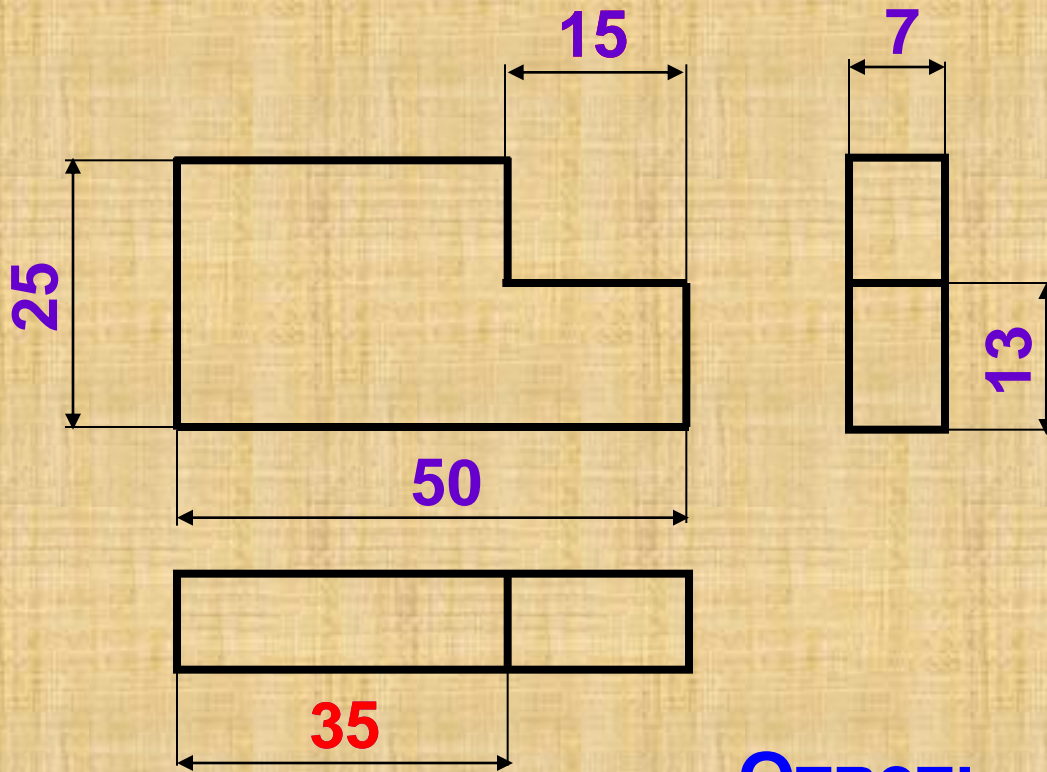
Л И Н Е Ё К А

## Вопрос 8




меню

Какой размер лишний?



Ответ: 15 или 35

## Вопрос 9



меню

Какой длины нужно чертить отрезок АВ, если масштаб М 1:4?

М 1:1




М 1:4



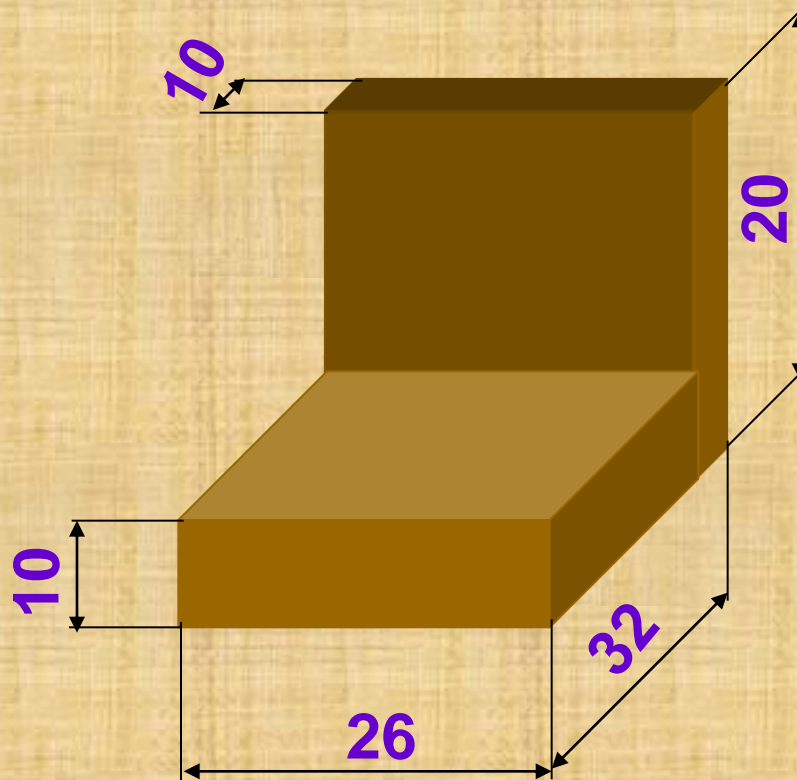
Ответ: длина отрезка АВ = 40 мм.

## Вопрос 10



меню

Изобразите технический рисунок по чертежу детали.



## **Список использованных печатных источников**

- 1.Тищенко А.Т. Технология. Индустриальные технологии: 5 класс: учебник для учащихся общеобразовательных учреждений / А.Т. Тищенко, В.Д. Симоненко. – М.: Вентана-Граф, 2012.**